

FICHA DE ESTUDO

História e Geografia de Portugal

6º ano

Lê com atenção e responde.

1. Em 28 de Maio de 1926 terminou a 1ª república.

1.1. Indica quem pôs fim à 1ª república.

.....

1.2. Identifica o tipo de governo iniciado com esta revolta.

.....

2. Observa a caricatura de Salazar e responde:

2.1. Que símbolos foram utilizados para desenhar os olhos, a boca, o nariz, o queixo e as orelhas?


.....
.....
.....

2.2. Identifica o cargo desempenhado por Salazar para justificar a utilização destes símbolos.

.....
.....

2.3. Descobre na caricatura as medidas utilizadas por Salazar para equilibrar as finanças.

.....
.....
.....
.....



3. Salazar iniciou um período chamado Estado Novo.


3.1. Quando se iniciou?

.....

3.2. Qual o cargo ocupado por Salazar?

.....

3.3. Relaciona a imagem com os ideais defendidos por Salazar.



.....

.....

.....

.....

.....

.....

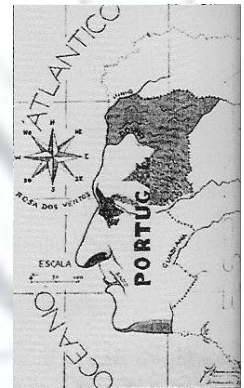
3.4. Enumera três órgãos criados por Salazar para impor as suas ideias.

.....

.....

.....

3.5. Relaciona a imagem do mapa de Portugal com as medidas criadas por Salazar para desenvolver o país.



.....

.....

.....

.....

.....

.....